

Maldanga R.M. Institution Alumni Association

Subject :- G.K & G.I

CLASS - PRE PRIMAY

NAME:-.....

FM - 40

TIME - 45 Minute

১. নিচের কোন গ্রহটিকে 'লালগ্রহ' বলা হয়?

- (A) শনি
- (B) মঙ্গল
- (C) বৃহস্পতি
- (D) শুক্র

৬. কুকুরে কামড়ালে নিম্নলিখিত কোন রোগটি হতে পারে?

- (A) প্লেগ
- (B) কলেরা
- (C) জলাতঙ্ক
- (D) টিটেনাস

২. পশ্চিমবঙ্গের জাতীয়পশুর নাম কী?

- (A) রয়েল বেঙ্গল টাইগার
- (B) ভারতীয় হাতি
- (C) মেছো বিড়াল
- (D) একশৃঙ্গগণ্ডার

৭. কোন পাখি উল্টোদিকে (পিছনে) উড়তে পারে?

- (A) পায়রা
- (B) হামিংবার্ড
- (C) পেঙ্গুইন
- (D) শামুকখোল

৩. পৃথিবীর সবচেয়ে কাছের গ্রহ কোনটি?

- (A) বুধ
- (B) শনি
- (C) শুক্র
- (D) মঙ্গল

৮. পশ্চিমবঙ্গের 'দুঃখ' কোননদীকে বলা হয়?

- (A) গঙ্গা নদী
- (B) দামোদরনদ
- (C) হলদি নদী
- (D) রূপনারায়ণ নদী

৪. ঘুমুর নৃত্যশৈলীটি ভারতের কোন রাজ্যের বিখ্যাত নাচ?

- (A) ওড়িশা
- (B) বিহার
- (C) পাঞ্জাব
- (D) রাজস্থান

৯. চীনের রাজধানীর নাম কী?

- (A) সাংহাই
- (B) বেজিং
- (C) টোকিও
- (D) সিওল

৫. পৃথিবীর বৃহত্তমদেশ কোনটি (আয়তনের ভিত্তিতে)?

- (A) কানাডা
- (B) মার্কিনযুক্তরাষ্ট্র
- (C) চীন
- (D) রাশিয়া

১০. কলেরা রোগ নিম্নলিখিত কোন পতঙ্গ দ্বারা যান্ত্রিকভাবে ছড়াতে পারে?

- (A) মশা
- (B) আরশোলা
- (C) মাছি
- (D) পিঁপড়ে

১১. রাঁচি ভারতের কোন রাজ্যের রাজধানী?

- (A) বিহার
- (B) ঝাড়খণ্ড
- (C) ছত্তিশগড়
- (D) উত্তরপ্রদেশ

১৬. যে জিনিস খালি চোখে দেখা যায়না, তাকে কোন যন্ত্রের সাহায্যে দেখা যায়?

- (A) দূরবীণযন্ত্র
- (B) পেরিস্কোপ
- (C) অণুবীক্ষণযন্ত্র
- (D) থার্মোমিটার

১২. আয়তনে ভারতের সবথেকে ছোট রাজ্য কোনটি?

- (A) ত্রিপুরা
 (B) সিকিম
 (C) কেরালা
 (D) গোয়া

১৩. নিচের কোন মাছটির আঁশ নেই?

- (A) রুই
 (B) কাতলা
 (C) ইলিশ
 (D) মাগুর

১৪. বর্তমানে পশ্চিমবঙ্গে কতগুলি জেলা আছে?

- (A) ২০টি
 (B) ২১টি
 (C) ২৩টি
 (D) ২৫টি

১৫. কোন মহান ব্যক্তির জন্মদিনটি 'শিক্ষকদিবস' হিসেবে পালন করা হয়?

- (A) জওহরলাল নেহেরু
 (B) ডঃএ.পি.জে. আব্দুলকালাম
 (C) ডঃ সর্বপল্লীরাধাকৃষ্ণণ
 (D) স্বামী বিবেকানন্দ

১৬. নিম্নলিখিত কোনগ্রহগুলির কোনো উপগ্রহ নেই?

- (A) মঙ্গল ও বৃহস্পতি
 (B) বুধ ও শুক্র
 (C) পৃথিবী ও মঙ্গল
 (D) শনি ও ইউরেনাস

১৮. ভারতের বর্তমান রাষ্ট্রপতির নাম কী?

- (A) শ্রীমতী নির্মলা সীতারমণ
 (B) শ্রীমতী দ্রৌপদী মুর্মু
 (C) শ্রী রামনাথ কোবিন্দ
 (D) শ্রী জগদীপধন খড়


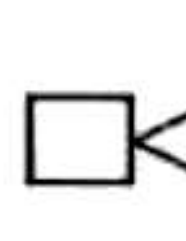
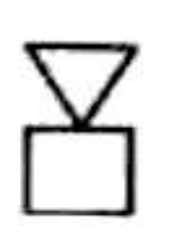
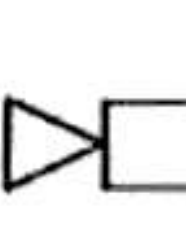







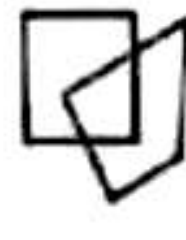





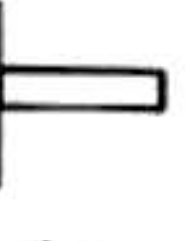
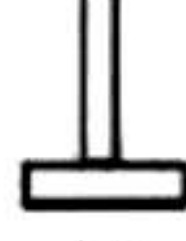
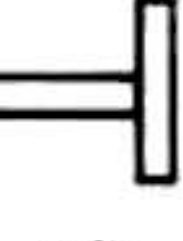





১৯. কোন দিনটিকে 'প্রজাতন্ত্রদিবস' হিসেবে পালন করা হয়?

- (A) ১৫ই আগস্ট
 (B) ২রা অক্টোবর
 (C) ২৬শে জানুয়ারি
 (D) ১৪ই নভেম্বর









২০. ভারতের জাতীয়গান 'বন্দে মাতরম' কে রচনা করেন?

- (A) রবীন্দ্রনাথ ঠাকুর
 (B) বঙ্কিমচন্দ্র চট্টোপাধ্যায়
 (C) কাজী নজরুল ইসলাম
 (D) শরৎচন্দ্র চট্টোপাধ্যায়

❖ হুবহু মিল চিত্রটি খুঁজে বের করে নিচে বাক্সে টিক চিহ্ন দাও :-

21.  |  (a)  (b)  (c)  (d)
22.  |  (a)  (b)  (c)  (d)
23.  |  (a)  (b)  (c)  (d)
24.  |  (a)  (b)  (c)  (d)
25.  |  (a)  (b)  (c)  (d)

❖ ভিন্ন চিত্রটি খুঁজে নিচের বাক্সে টিক দাও:-

26.  (a)  (b)  (c)  (d)
27.  (a)  (b)  (c)  (d)

28.



- (a) (b) (c) (d)

29.



- (a) (b) (c) (d)


30.



- (a) (b) (c) (d)


❖ প্রশ্ন চিহ্নিত স্থানে যে চিত্রটি বসবে তার নিচে বক্সে টিক দাও :-

31.




- a) b) c)

32.




- a) b) c)

33.




- a) b) c)

34.



- a) b) c)

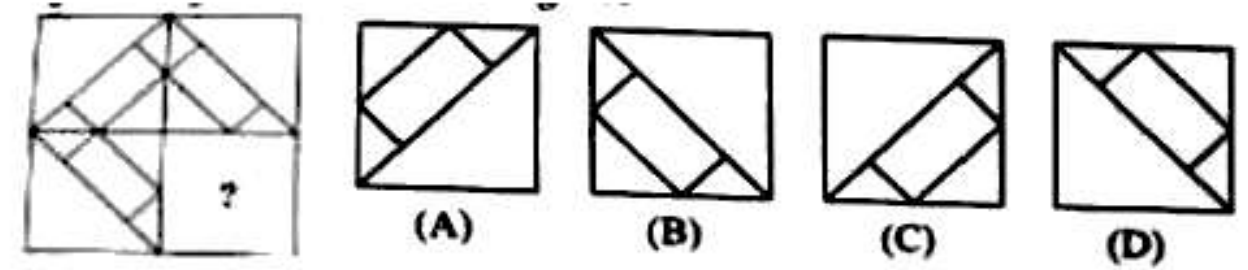
35.



- a) b) c)

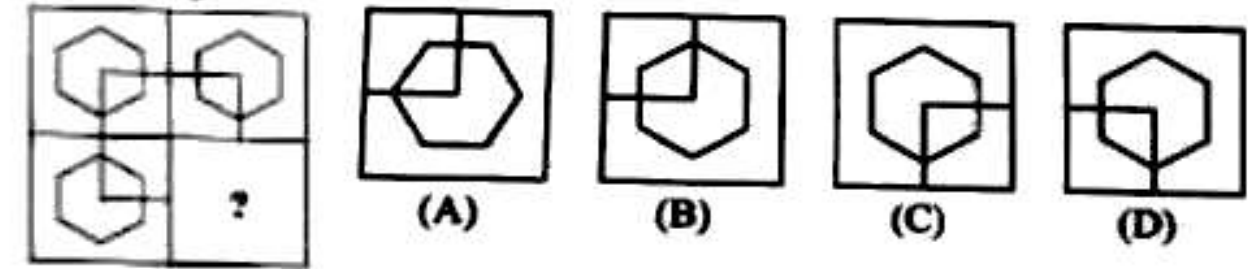
❖ প্রশ্ন চিহ্নিত স্থানে যে চিত্রটি বসবে তার নিচে বক্সে টিক দাও:-

36.



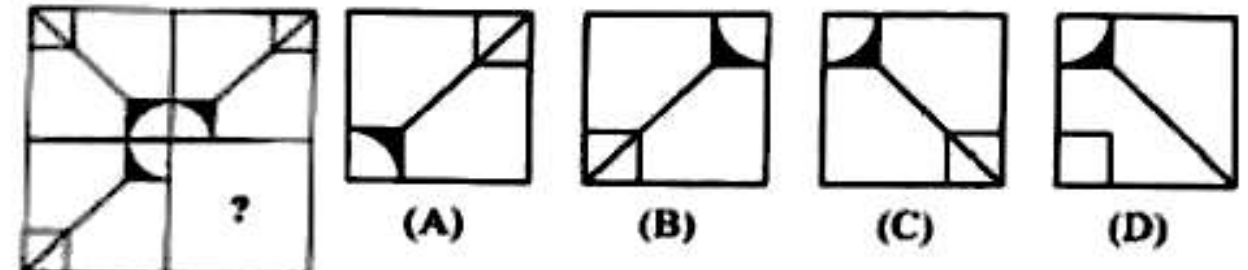
- (A) (B) (C) (D)

37.



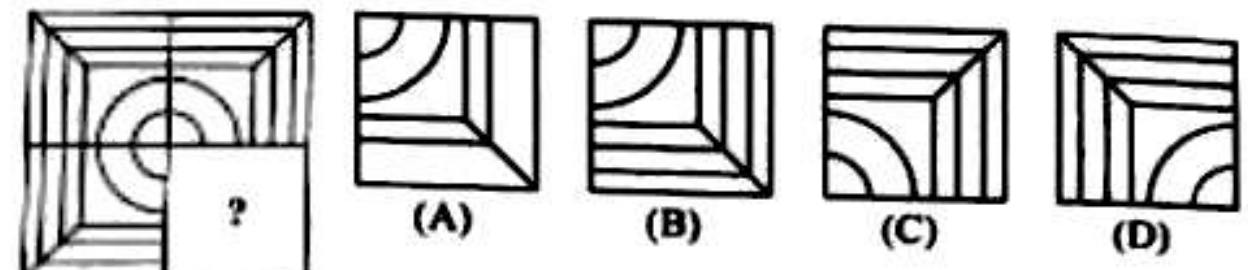
- (A) (B) (C) (D)

38.



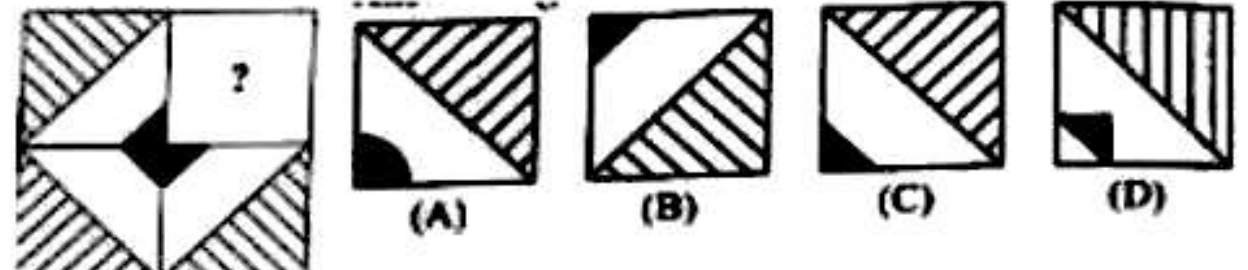
- (A) (B) (C) (D)

39.



- (A) (B) (C) (D)

40.



- (A) (B) (C) (D)